



# NE PREGĂTIM

## PENTRU EVALUAREA NAȚIONALĂ

**Teste după model european  
pentru clasa a IV-a**

Localitatea .....

Județul/sectorul .....

Școala .....

Numele

elevului / elevei .....

Prenumele

elevului / elevei .....



10 De ce Soare, deși știa că nu are voie să se căsătorească cu Luna, a pregătit petrecerea pentru căsătorie?

Scrie răspunsul tău pe rândurile de mai jos:

---

---

11 Completează enunțurile următoare cu informații din text.

– Tu, Soare, o să luminezi ..... , iar tu Lună .....

Pe veci, ..... să fiți.

Mereu să ..... și .....  
unul pe celălalt.

Doar la ..... și ..... Soarelui .....  
..... pentru o clipă.

12 Marchează cu X răspunsul corect.

- De durere, Soarele nu a mai încălzit niciodată pământul.
- De durere, Soarele s-a făcut roșu ca focul, iar Luna neagră ca pământul.
- De durere, Soarele s-a făcut galben ca ceara, iar Luna roșie ca focul.
- De durere, Soarele s-a făcut roșu ca focul, iar Luna s-a îngălbenit ca ceara.

13 Ținând cont de ordinea evenimentelor din povestire, ordonează ideile principale date mai jos.

Numerotează de la 1 la 5 în căsuțele alăturate.

- Îndrăgostit de sora sa Luna, Soarele a început să pârjolească pământul.
- Întors pe pământ, Soarele se pregătește de căsătorie.
- În vremurile de demult trăia un flăcău numit Soare care împrăștia lumină și căldură pe pământ.
- Dumnezeu i-a blestemat și i-a despărțit pentru totdeauna.
- Dumnezeu l-a trimis în iad pentru a-l pedepsi.

14 În ce luni sunt mai puternice razele soarelui?

Încercuiește litera corespunzătoare răspunsului corect.

a) martie ÷ mai;

c) septembrie ÷ noiembrie;

b) iunie ÷ august;

d) decembrie ÷ februarie.

15 Unește fiecare expresie cu înțelesul potrivit.

să pârjolească pământul

iubire

focul ce-i ardea inima

distrugere

să-i potolească dorința

suferință

se revărsa în valuri dragostea

uitare

16 Scrie în dreptul fiecărui personaj trăsătura potrivită, aleasă din următoarele: frumoasă, îndrăgostit, mâniat, îndurerat.

a) Soare;

\_\_\_\_\_

b) Luna;

\_\_\_\_\_

c) Soare;

\_\_\_\_\_

d) Dumnezeu.

\_\_\_\_\_

17 Ce cuvânt descrie sentimentul trăit de Soare și Lună atunci când au fost despărțiți pe veci?

Încercuiește litera corespunzătoare răspunsului corect.

a) fericire;

b) furie;

c) bucurie;

d) tristețe.

18 Transformă verbele în substantive:

a) a cununa;

\_\_\_\_\_

b) a mânia;

\_\_\_\_\_

c) a petrece (distră);

\_\_\_\_\_

d) a despărți.

\_\_\_\_\_





## Testul 2

**Citește cu atenție textul de mai jos:**

Era un ger grozav afară. Ningea mocnit și începuse a se înnopta. Era Ajunul Anului Nou. Pe frigul și pe întunericul acela, mergea pe stradă o biată fetiță cu capul și cu picioarele goale. Când plecase de acasă avusese niște papucei din pâslă, dar nu-i fuseseră de prea mare ajutor. Papucii îi erau prea mari; mama ei aproape că îi rupsesese de atâta purtat și erau și așa prea largi pentru dânsa. Astfel că pe unul mititica îl pierduse grăbindu-se să treacă o stradă unde era cât pe ce să fie strivită între două trăsură grăbite, iar pe celălalt i-l luase un băiat, care zicea că vrea să-și facă din el leagăn pentru copilul lui, când o fi să aibă unul.

Așa că de atunci fetița merse în picioarele goale, iar acestea îi deveniseră din cauza frigului roșii-vinete. În șorțul ei vechi, micuța ținea strâns un vârf de cutii de chibrituri și mai avea și în mână o cutie. Fusese o zi rea pentru dânsa, pentru că nimeni nu îi cumpărase nimic până la acea oră târzie. Astfel că n-avea niciun bănuț. Îi era tare foame și nespus de frig!

Biata fetiță! Fulgii de zăpadă cădeau pe părul ei lung și bălai, care i se încrețea frumos pe lângă ceafă, dar nu se gândea ea acum la părul ei creț. Luminile străluceau la ferestre, miros de fripturi se răspândea în stradă, căci era Ajunul Anului Nou. Iată la ce se gândea ea!

Într-un sfârșit, nu a mai fost în stare să mai meargă. Se opri și se ghemui într-un colț aflat între două case, din care una ieșea în stradă mai mult decât cealaltă. Și cu toate că își strânse piciorușele sub dânsa, frigul o pătrundea din ce în ce mai mult. Dar nu îi venea să meargă acasă!

Dacă ar fi adus înapoi toate chibriturile și niciun bănuț, tatăl ei ar fi bătut-o strașnic pentru asta. Și-apoi, ce, acasă la ea nu era



**15** Ținând cont de evenimentele din povestire, ordonează ideile principale date mai jos. *Numerotează de la 1 la 7 în căsuțele alăturate.*

- Chinuită de foame și frig, fetița se adăpostește într-un colț aflat între două case.
- În șorțul vechi, fetița ținea strâns un vârf de cutii de chibrituri pe care nu reușise să le vândă.
- Într-o seară geroasă, în Ajunul Anului Nou, o fetiță mergea pe stradă cu capul și picioarele goale.
- Micuța a început să aprindă câte un chibrit pentru a se încălzi.
- Fetița și bunica au zburat împreună vesele în Împărăția Cerurilor.
- Fetița a început să vadă numai lucruri minunate, care au făcut-o să uite de frig și de foame.
- Fetița a văzut-o pe bunica ei și a rugat-o să o ia cu ea.

**16** Potrivește în dreptul fiecărui eveniment însușirea potrivită, aleasă din text.

comportamentul tatălui

blândă și duioasă

privirea bunicii

brutal

părul fetiței

frumoasă

fața bunicii

lung și bălai

**17** Alege cuvântul care descrie starea fetiței când a văzut-o pe bunica sa. *Încercuiește litera corespunzătoare răspunsului corect.*

- a) supărare;
- b) frică;
- c) fericire;
- d) nepăsare.







**13** Dublul numărului 30 adunat cu el însuși se rezolvă astfel:  
*Încercuiește litera corespunzătoare exercițiului scris corect.*

- a)  $(2 \times 30) + 30$ ;                      c)  $(30 : 2) + 30$ ;  
b)  $(30 - 30) \times 2$ ;                      d)  $(30 : 30) + 2$ .

**14** Scrie semnele operațiilor corespunzătoare pentru ca relația să fie adevărată.

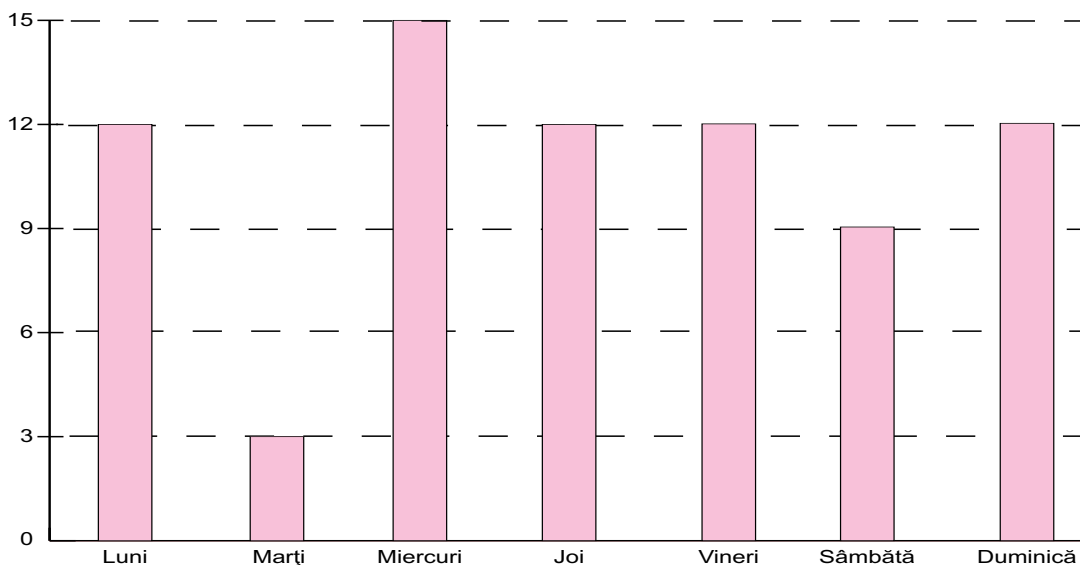
$$100 \square 100 \square 100 \square 100 = 0$$

**15** Diferența fracțiilor  $\frac{3}{5}$  și  $\frac{2}{10}$  este:

*Încercuiește litera corespunzătoare răspunsului corect.*

- a)  $\frac{1}{5}$ ;      b)  $\frac{2}{5}$ ;      c)  $\frac{4}{5}$ ;      d)  $\frac{5}{15}$ .


**16** Bogdan a terminat de citit o carte într-o săptămână.  
Graficul indică numărul de pagini citit de el în fiecare zi.



- a) Care este ziua în care a citit cele mai multe pagini?  
b) În ce zi a citit cele mai puține pagini?  
c) Câte pagini a citit vineri și duminică?  
d) Câte pagini are cartea citită de Bogdan?



## TESTUL 9

Citește cu atenție textul de mai jos:



Deci iată cartierul de târg moldovenesc  
În pomi e aur și-n geamuri galben soare  
Desigur că pe mama acasă-am s-o găesc.  
Acu, tata-i la muncă pe câte mi se pare.

Vin tot mai rar pe-acasă, departe-i și n-am timp  
Adesea luni de zile nu-mi amintesc de casă  
Când zeci de neajunsuri mă cer și când un glas  
Ce-i izvorât din suflet, pe suflet mă apasă.

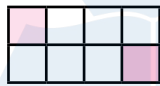
S-au coșcovit pereții îmbătrâniți de ploii  
Sunt tot mai tocite, parcă, și scările de piatră.  
Cu coada răsucită, smulgându-se din laț  
Văd m-a uitat și câinele-mă latră.

Dar mama ... Se încurcă în fuste alergând  
Acum îi simt mireasma de prună și de pară  
Cum o simțeam atunci, când prune ne-aducea  
Copiilor, ce se jucau afară.

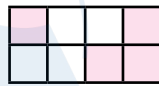
Rămânem în tăcere pe banca de stejar;  
Cu palmele uscate fierbinți, ea mă mângâie  
Obrazul ars de soare și părul plin de praf,  
Plin de polenul auriu din grâne.

„Întâlnire cu mama“, de Nicolae Labiș

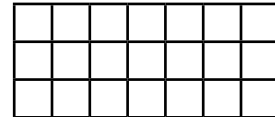
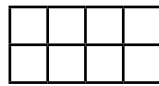
15 Scrie operația de adunare a fracțiilor. Colorează căsuțele.



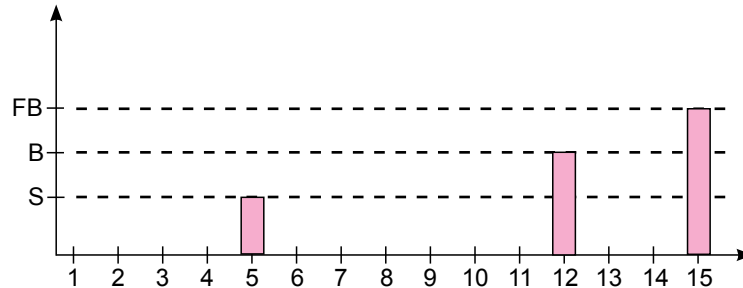
+



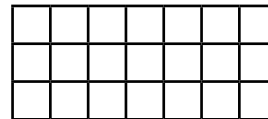
=



16 Rezultatele obținute de elevii clasei a IV-a A la testul de evaluare la Geografie sunt notate în graficul de mai jos. Conform graficului, clasa are un număr de ..... elevi.


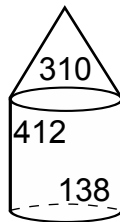


17 Scrie fracția  $\frac{6}{2}$  ca diferență a două fracții.



18 Suma numerelor din interiorul cilindrului este:

- a) 550;
- b) 274;
- c) 860;
- d) 510.



19 Alin s-a născut pe 17 august 2004. Câți ani va împlini Alin pe 17 august 2075?

- a) 10 ani;
- b) 19 ani;
- c) 12 ani;
- d) 71 ani.

20 Din cei 500 de lei pe care îi avea în pușculiță, Amalia a cheltuit 2 bancnote de 100 de lei, 1 bancnotă de 5 lei, 4 bancnote de 1 leu și 8 monede de 50 de bani. Câți bani mai are Amalia în pușculiță?

*Încercuiește litera corespunzătoare răspunsului corect.*

- a) 213 lei;
- b) 313 lei;
- c) 287 lei;
- d) 187 lei.